

## PSI - 2014

### पोलीस उपनिरीक्षक (पूर्व) परीक्षा - 2014

1. ‘न्यू मूर’ या बेटावरून सध्या कोणत्या दोन देशांमध्ये वाद सुरू आहे ?

- (1) भारत आणि चीन (2) भारत आणि पाकिस्तान  
(3) भारत आणि बांग्लादेश (4) भारत आणि श्रीलंका

► **New Moore Island is a point of conflict between which two countries ?**

- (1) India and China (2) India and Pakistan  
(3) India and Bangladesh (4) India and Sri Lanka

2. स्थानिक स्वराज्य संस्थांच्या निवडणुकीत मतदारांसाठी नकाराधिकार (नोटा) उपलब्ध करून देणारे देशातील पहिले राज्य कोणते ?

- (1) मध्यप्रदेश (2) राजस्थान  
(3) छत्तीसगढ (4) महाराष्ट्र

► **Which was the first State in the country to give right of NOT (None of the above) to the voters in the election of Local Self Government ?**

- (1) Madhya Pradesh (2) Rajasthan  
(3) Chhattisgarh (4) Maharashtra

3. 1.1.2014 रोजी महाराष्ट्रातील नोंदणीकृत मतदारांची संख्या होती.

- (1) 9.50 कोटी (2) 8.25 कोटी  
(3) 7.89 कोटी (4) 6.75 कोटी

► **Registered number of voters in Maharashtra as on 1.1.2014 were**

- (1) 9.50 crores (2) 8.25 crores  
(3) 7.89 crores (4) 6.75 crores

4. खालील विधाने विचारात घ्या.

- (अ) मा. राष्ट्रपतीने लोकपाल विधेयक 2013 ला 1 जानेवारी 2014 रोजी मान्यता दिली.  
(ब) लोकपाल यांच्या न्यायाधिकारात पंतप्रधान, मंत्री व खासदार येतात.

पर्यायी उत्तरे :

- (1) विधान ‘अ’ बरोबर, ‘ब’ चूक  
(2) विधान ‘अ’ चूक, ‘ब’ बरोबर  
(3) दोन्हीही ‘अ’ आणि ‘ब’ विधाने बरोबर  
(4) दोन्हीही ‘अ’ आणि ‘ब’ विधाने चूक

► **Consider the following statements :**

- (a) Lokpal Bill 2013 was assented by the Hon'ble President on January 1,2014.  
(b) Prime Minister, Ministers and Members of Parliament are within the jurisdiction of Lokpal.

**Answer Options :**

- (1) Statement 'A' is correct, 'B' is false  
(2) Statement 'A' is false, 'B' is correct  
(3) Both the statements 'A' and 'B' are correct  
(4) Both the statements 'A' and 'B' are false

5. साहित्य अकादमी पुरस्कार, 2013 मराठीसाठी निवड समितीचे सदस्य कोण होते ?

- (अ) डॉ. सदानंद मोरे (ब) डॉ. नागनाथ कोत्तापळे  
(क) वसंत आबाजी डहाके (ड) प्रो. विलास खोले

- पर्यायी उत्तरे :  
(1) अ, ब, क (2) ब, क, ड  
(3) अ, ब, ड (4) अ, क, ड

► **Who were the members of the selection committee of Sahitya Akademi ward, 2013 for Marathi ?**

- (a) Dr. Sadanand More (b) Dr. Nagnath Kottapalle  
(c) Vasant Abaji Dahake (d) Prof. Vilas Khole

**Answer Options :**

- (1) a, b, c (2) b, c, d  
(3) a, b, d (4) a, c, d

6. 2013 मध्ये मंगळ यान हे कोणत्या ठिकाणावरून सोडण्यात आले ?

- (1) भुवनेश्वर (2) बंगलुरु  
(3) श्रीहरिकोटा (4) हैदराबाद

► **Wherefrom was the Mangalyaan launched in 2013?**

- (1) Bhubaneshwar (2) Bengaluru  
(3) Sriharikota (4) Hyderabad

7. जागतिक वारसा स्थळ यादीत महाराष्ट्रातील खालीलपैकी कोणत्या स्थळांचा समावेश होतो ?

- (a) शनिवारवाडा आणि शिंद्यांची छत्री.  
(b) अजिंठा आणि वेरूळ  
(c) कासचे पठार आणि छत्रपती शिवाजी टर्मिनस.  
(d) नांदेड येथील गुरुद्वारा आणि ज्ञानेश्वर समाधी.

पर्यायी उत्तरे :

- (1) a आणि b (2) b आणि c  
(3) c आणि d (4) a आणि d

► **Which of the following sites in Maharashtra figure in the list of World Heritage sites ?**

- (a) Shaniwanvada and Shinde's Chattri  
(b) Ajanta and Ellora  
(c) Kaas plateau and Chhatrapati Shivaji Terminus.  
(d) Gurudwara in Nanded and Dnyaneshwar Samadhi

**Answer Options :**

- (1) a and b (2) b and c  
(3) c and d (4) a and d

8. ‘प्लॅनिंग अॅन्ड दि पुअर’ या ग्रंथाचे लेखन कोणी केले ?

- (1) डॉ. वि. म. दांडेकर (2) प्रो. अमर्त्य सेन  
(3) डॉ. नरेंद्र जाधव (4) डॉ. बी. एस. मिन्हास

► **Who has written the book 'Planning and the Poor'?**

- (1) Dr. V. M. Dandekar (2) Prof. Amartya Sen  
(3) Dr. Narendra Jadhav (4) Dr. B. S. Minhas

9. झुम्पा लहरी यांच्याविषयी खालीलपैकी कोणते विधान सत्य ठरेल ?

- (1) त्या ‘भारत-पाक कथा कादंबरीकार’ आहेत.  
(2) मॅन बुकर पारितोषिकांच्या अंतिम सहा पुस्तकात 2013 मध्ये त्यांच्या पुस्तकाची निवड झाली.  
(3) त्यांच्या ‘इंटरप्रेटर’ या कादंबरीला साहित्य अकादमीचा पुरस्कार मिळाला.  
(4) वरीलपैकी सर्व.

► **Which of the following statements is true about Jhumpa Lahiri ?**

- (1) She is an 'Indo-Pak Novelist'.  
(2) Her book was selected among the six final books for the Man Booker Award 2013.  
(3) Winner of the Sahitya Akademi Award for the novel 'Interpreter'.  
(4) All of the above

10. देशातील घनकचऱ्यातून उर्जा निर्मितीचा पहिला प्रकल्प कोणत्या महानगरपालिकेने सुरू केला आहे ?

- (1) पिंपरी-चिंचवड महानगरपालिका  
(2) पुणे महानगरपालिका  
(3) मुंबई महानगरपालिका  
(4) ठाणे महानगरपालिका

► **Which Municipal Corporation in the country has taken the lead in implementing the project of producing electricity from waste ?**

- (1) Pimpri Chinchwad Municipal Corporation  
(2) Pune Municipal Corporation  
(3) Mumbai Municipal Corporation  
(4) Thane Municipal Corporation

11. वनहक्क कायद्याच्या अंमलबजावणीत खालीलपैकी कोणत्या जिल्ह्याने देशात प्रथम क्रमांक मिळविला आहे ?

- (1) भंडारा (2) ठाणे  
(3) गडचिरोली (4) चंद्रपूर

► **Which of the following districts has come first in the country in effectively implementing the Forest Rights Act ?**

- (1) Bhandara (2) Thane  
(3) Gadchiroli (4) Chandrapur

12. महाराष्ट्रात लॉ युनिव्हर्सिटीची स्थापना कुठे करण्यात येणार नाही ?

- (1) नागपूर (2) औरंगाबाद

- (3) मुंबई (4) पुणे

► **Where will a Law University not be established in Maharashtra ?**

- (1) Nagpur (2) Aurangabad  
(3) Mumbai (4) Pune

13. भारतीय घटनेतील 120वी दुरुस्ती विधेयक कोणत्या क्षेत्राशी संबंधित आहे ?

- (1) न्यायालयीन नियुक्ती (2) सहकार  
(3) शिक्षण (4) निवडणूक सुधार

► **What is the 120<sup>th</sup> Amendment Bill to the Indian Constitution related to?**

- (1) Judicial Appointments (2) Co-operatives  
(3) Education (4) Election Reforms

14. डॉ. नरेंद्र दाभोळकरांनी खालीलपैकी कोणते पुस्तक लिहिले नाही ?

- (1) विचार तर कराल (2) सामाजिक श्रद्धा  
(3) तिमिरातून तेजाकडे (4) ठरलं..डोळस व्हायचच!

► **Which book has not been written by Dr. Narendra Dabhokar ?**

- (1) Vichar Tar Karal  
(2) Samajik Shraddha  
(3) Timiratun Tejakade  
(4) Tharala .... Dolas Whaychach !

15. देशातील राष्ट्रीय कृषी प्रदर्शनी ‘कृषी वसंत 2014’ कुठे भरली होती ?

- (1) पुणे (2) अकोला  
(3) इंदौर (4) नागपूर

► **Where was the National Agriculture Exhibition Krishi Vasant 2014 organised in the country ?**

- (1) Pune (2) Akola  
(3) Indore (4) Nagpur

16. ग्रामपंचायतीच्या सरपंचाबाबतच्या खालील विधानांचा विचार करा.

- (अ) तो ग्रामपंचायतीचा कार्यकारी प्रमुख असतो.  
(ब) ग्रामपंचायतीच्या बैठकी बोलावतो व अध्यक्षस्थान भूषवितो.  
(क) ग्रामपंचायतीच्या ठरावांची व निर्णयांची अंमलबजावणी करतो.  
(ड) अकार्यक्षमता, अयोग्य वर्तन व भ्रष्टाचार या कारणावरून जिल्हा परिषदेची स्थायी समिती त्याला पदभ्रष्ट करू शकते.

**वरीलपैकी कोणते/ती विधाने बरोबर आहेत ?**

- (1) केवळ अ (2) केवळ ब आणि क  
(3) केवळ अ, ब आणि क (4) वरील सर्व

► **Consider the following statements about Sarpanch of a Gram Panchayat :**

- (a) He is executive head of Gram Panchayat.  
(b) Convenes and presides over the meetings of Gram Panchayat.  
(c) Executes the resolutions and decisions of Gram Panchayat.

- (d) He can be removed from office by the Standing Committee of Zilla Parishad, on the grounds of incapacity, misbehaviour and corruption.

**Which of the statements given above is/are correct?**

- (1) a only (2) b and c only  
(3) a, b and c only (4) All of the above

17. राज्य लोकसेवा आयोगाच्या सदस्यांच्या पदाचा कार्यकाल समाप्तीनंतर खालीलपैकी कोणते विधान बरोबर नाही?

- (1) तो केंद्रीय लोकसेवा आयोगाचा अध्यक्ष म्हणून नियुक्तीला पात्र असतो.  
(2) तो केंद्रीय लोकसेवा आयोगाचा सदस्य म्हणून नियुक्तीला पात्र असतो.  
(3) तो त्याच राज्य लोकसेवा आयोगाचा अध्यक्ष म्हणून नियुक्तीला पात्र असतो.  
(4) तो अन्य कोणत्याही राज्य लोकसेवा आयोगाचा अध्यक्ष म्हणून नियुक्तीला पात्र नसतो.

► **Which of the following statements is not correct about a member of State Public Service Commission on ceasing to hold office ?**

- (1) He is eligible for appointment as the Chairman of Union Public Service Commission.  
(2) He is eligible for appointment as a member of Union Public Service Commission.  
(3) He is eligible for appointment as the Chairman of that State Public Service Commission.  
(4) He is not eligible for appointment as a Chairman of any other State Public Service Commission.

18. राज्याच्या महाधिवक्त्याबाबत खालीलपैकी कोणते विधान बरोबर नाही?

- (1) त्याची नियुक्ती संबंधित घटक राज्याच्या राज्यपालाकडून होते.  
(2) त्याच्याकडे सोपविलेल्या बाबी संबंधाने तो राज्य सरकारला कायदेशीर सल्ला देतो.  
(3) जर आणि जेव्हा गरज असेल तेव्हा तो राज्यविधिमंडळपुढे भाषण करू शकतो.  
(4) विधिमंडळाच्या गृहात तो मतदान करू शकतो.

► **Which of the following statements is not correct about the Advocate General of a State ?**

- (1) He is appointed by the Governor of the concerned State.  
(2) He gives advice to the State Government on legal matters referred to him.  
(3) He can address the State Legislature as and when required  
(4) He has the right to vote in the Houses of Legislature.

19. खाली दिलेल्या पर्यायांपैकी भारताच्या सर्वोच्च न्यायालयाने निवडणूक प्रक्रियेत सुधारणे संदर्भात नुकतेच कोणते महत्त्वपूर्ण निर्णय दिले?

- (अ) इलेक्ट्रॉनिक वोटिंग मशीनचा वापर  
(ब) EVM वर आणि मतपत्रिकेवर 'NOTA' (यापैकी कुणीही नाही)  
(क) निवडणूक ओळखपत्र  
(ड) गुन्हा/अपराध सिद्ध झाल्याच्या दिनांकापासून संसद सदस्य (खासदार), राज्य विधिमंडळाचा सदस्य (आमदार) अपात्र ठरतो/अनर्ह ठरतो.

**पर्यायी उत्तरे :**

- (1) फक्त अ (2) अ आणि ड  
(3) अ, ब, क (4) ब आणि ड

► **Amongst the following which of the recent judgments of the Supreme Court of India were related with the reforms of electoral process ?**

- (a) Use of electronic voting machine.  
(b) 'NOTA' option in EVMs and on ballot paper.  
(c) Election Voting Identity Card  
(d) MP's, MLA's to be disqualified on the date of criminal conviction.

**Answer Options :**

- (1) Only a (2) a and d  
(3) a, b, c (4) b and d

20. भूमि अधिग्रहण, पुनर्वसन पारदर्शकता आणि योग्य मोबदला कायदा – 2013 मधील खालील तरतुदींचा विचार करा :

- (अ) भूमि अधिग्रहणासाठी संबंधित सर्व शेतकऱ्यांची संमती आवश्यक आहे.  
(ब) अधिग्रहित केलेली जमीन पाच वर्षांपर्यंत वापरात आणली नाही तर मूळ मालकाला परत केली जाईल  
(क) पुनर्वसनानंतरच भूमि अधिग्रहण करता येईल  
(ड) ग्रामीण क्षेत्रात भूमि मालकाला बाजारभावाच्या चार पटीने, तर शहरी भागात दुपटीने मोबदला दिला जाईल

**वरील विधानापैकी कोणते/ती विधाने बरोबर आहेत ?**

- (1) केवळ अ आणि ब (2) केवळ ब आणि क  
(3) केवळ क आणि ड (4) ब, क आणि ड

► **Consider the following provisions in The Right to Fair Compensation and Transparency in Land Acquisition, Rehabilitation and Resettlement Act, 2013 :**

- (a) The consent of all the concerned farmers is essential to acquire the land  
(b) If the acquired land remains unused for five years, it is to be returned to its owner.  
(c) The land will be acquired after rehabilitation only.  
(d) The compensation paid to the land owner will be four times market value in rural areas and two times in urban areas.

**Which of the above statements is/are correct ?**

- (1) a and b only (2) b and c only  
(3) Only c and d (4) b, c and d

21. खालील विधानांचा विचार करा.

- (अ) डॉ. बी. आर. आंबेडकर हे मसुदा समितीचे अध्यक्ष होते.  
(ब) श्री. एच. जे. खांडेकर हे या समितीचे सदस्य होते.

पर्यायी उत्तरे :

- (1) ब बरोबर आहे  
(2) अ बरोबर आहे  
(3) अ आणि ब दोन्हीही बरोबर आहेत  
(4) अ आणि ब दोन्हीही चूक आहेत

► Consider the following statements :

- (a) Dr. B. R. Ambedkar was the Chairman of Drafting Committee.  
(b) Shri H. J. Khandekar was the member of this committee.

Answer Options :

- (1) b is correct  
(2) a is correct  
(3) a and b both are correct  
(4) a and b both are wrong

22. ‘कॅबिनेट मिशन योजने’संदर्भात जुळणी करा.

- (अ) निवडावयाची एकूण सदस्य संख्या (i) 292  
(ब) संस्थानिक-राज्यांचे प्रतिनिधी (ii) 4  
(क) उच्च आयुक्तांचे प्रांत प्रतिनिधी (iii) 93  
(ड) प्रांतांचे प्रतिनिधी (iv) 389

पर्यायी उत्तरे :

- (अ) (ब) (क) (ड)  
(1) (iv) (iii) (ii) (i)  
(2) (i) (ii) (iii) (iv)  
(3) (ii) (i) (iv) (iii)  
(4) (iii) (iv) (i) (ii)

► Match the following as per 'Cabinet Mission Plan':

- (a) Total members to be elected (i) 292  
(b) Representatives of the Princely States (ii) 4  
(c) Representatives of High Commissioners' Areas (iii) 93  
(d) Representatives of the Provinces (iv) 389

Answer Options :

- (a) (b) (c) (d)  
(1) (iv) (iii) (ii) (i)  
(2) (i) (ii) (iii) (iv)  
(3) (ii) (i) (iv) (iii)  
(4) (iii) (iv) (i) (ii)

23. उद्देशपत्रिकेची खालील वर्णने आणि विद्वान यांची जुळणी करा:

- (अ) राजकीय कुंडली (i) पंडीत ठाकुरदास भार्गव  
(ब) कल्याणकारी राज्याची अचंबित करणारी तत्त्वे (ii) एम.व्ही. पायली  
(क) उत्कृष्ट गद्य-काव्य (iii) के.एम. मुन्शी

- (ड) अशा प्रकारचा केलेला एक सर्वोत्तम मसुदा (iv) आचार्य जे. बी. कृपलानी

पर्यायी उत्तरे :

- (अ) (ब) (क) (ड)  
(1) (iii) (iv) (i) (ii)  
(2) (i) (ii) (iii) (iv)  
(3) (ii) (i) (iv) (iii)  
(4) (iv) (iii) (ii) (i)

► Match the following scholars with the way they described the Preamble :

- (a) Political Horoscope (i) Pandit Thakurdas Bhargava  
(b) Mystic Principles of a Welfare State (ii) M. V. Pylee  
(c) Superb prose-poem (iii) K. M. Munishi  
(d) One of the best of the kind ever drafted (iv) Acharya J. B. Kripalani

Answer Options :

- (a) (b) (c) (d)  
(1) (iii) (iv) (i) (ii)  
(2) (i) (ii) (iii) (iv)  
(3) (ii) (i) (iv) (iii)  
(4) (iv) (iii) (ii) (i)

24. ग्रामसभेसंबंधीच्या खालील विधानांचा विचार करा :

- (अ) तो पंचायती राज्यातील सर्वात कनिष्ठस्तर आहे.  
(ब) 73व्या राज्यघटना दुरुस्तीने तिला घटनात्मक दर्जा प्राप्त झाला आहे.  
(क) ग्रामसभेत, ग्रामपंचायतीच्या क्षेत्रात वास्तव्य करणाऱ्या सर्व पात्र मतदारांचा समावेश होतो.  
(ड) वित्तीय वर्षामध्ये ग्रामसभेच्या चार बैठका घ्याव्या लागतात.

वरीलपैकी कोणते/कोणती विधाने बरोबर आहेत ?

- (1) केवळ अ (2) केवळ ब आणि क  
(3) केवळ अ, ब आणि क (4) वरील सर्व

► Consider the following statements about Gram Sabha :

- (a) It constitutes the lowest tier in the Panchayati Raj.  
(b) It has become a statutory body by the 73rd Constitutional Amendment.  
(c) Gram Sabha consists of all the eligible voters living in the area of Gram Panchayat.  
(d) Four meetings of the Gram Sabha are to be conducted in the financial year.

Which of the statements given above is/are correct?

- (1) a only (2) b and c only  
(3) a, b and c only (4) All of the above

25. राज्यपालाचे अधिकार व अधिकार प्रदान करणारी कलमे यांची जुळणी करा :

- (अ) विधान सभेत अँग्लो-इंडियन जमातीच्या एका प्रतिनिधीची नियुक्ती करू शकतात (i) 161

- (ब) राज्यसरकारचे वार्षिक अंदाजपत्रक (i) 207  
विधानसभेपुढे सादर करण्यास सांगणे  
(क) विधानसभेत अर्थविधेयके मांडण्याची (i) 202  
शिफारस करणे  
(ड) त्याला ‘दया दाखविण्याचा (iv) 333  
विशेषाधिकार’ आहे

**पर्यायी उत्तरे :**

- |     | (अ)   | (ब)   | (क)   | (ड)   |
|-----|-------|-------|-------|-------|
| (1) | (iv)  | (iii) | (ii)  | (i)   |
| (2) | (i)   | (ii)  | (iii) | (iv)  |
| (3) | (iii) | (iv)  | (i)   | (ii)  |
| (4) | (ii)  | (i)   | (iv)  | (iii) |

► **Match the powers of the Governor with the Articles conferring those powers :**

- (a) He can nominate one member of (i) 161  
Anglo-Indian Community in  
Vidhan Sabha  
(b) He causes the annual budget of (ii) 207  
the State Government to be laid  
before Vidhan Sabha  
(c) To recommend Money Bills to (iii) 202  
be introduced in Vidhan Sabha  
(d) He has 'prerogative of mercy' (iv) 333

**Answer Options :**

- |     | (a)   | (b)   | (c)   | (d)   |
|-----|-------|-------|-------|-------|
| (1) | (iv)  | (iii) | (ii)  | (i)   |
| (2) | (i)   | (ii)  | (iii) | (iv)  |
| (3) | (iii) | (iv)  | (i)   | (ii)  |
| (4) | (ii)  | (i)   | (iv)  | (iii) |

26. पुढील घटना त्यांच्या कालक्रमानुसार लिहा :

- (अ) समाजवादी पक्षाची स्थापना  
(ब) काँग्रेसचे पाटणा अधिवेशन  
(क) श्वेतपत्रिका  
(ड) तिसरी गोलमेज परिषद

**पर्यायी उत्तरे :**

- (1) क, ब, अ, ड (3) अ, ड, क, ब  
(2) ड, क, ब, अ (4) ब, अ, ड, क

► **Arrange the following events in their chronological order :**

- (a) Establishment of Socialist Party  
(b) Patna Session of the Congress  
(c) White Paper  
(d) Third Round Table Conference

**Answer Options :**

- (1) c, b, a, d (2) d, c, b, a  
(3) a, d, c, b (4) b, a, d, c

27. ब्रिटिश ईस्ट इंडिया कंपनीची भारतातील व्यापारविषयक मत्केदारी कोणत्या कायद्यान्वये संपुष्टात आली ?

- (1) 1793 चा सनदी कायदा

- (2) 1813 चा सनदी कायदा  
(3) 1773 चा नियमनाचा कायदा  
(4) 1868 चा भारताच्या सुशासनाचा कायदा

► **Which of the following Acts ended the trade monopoly of the British East India Company in India ?**

- (1) The Charter Act of 1793  
(2) The Charter Act of 1813  
(3) The Regulating Act of 1773  
(4) Act for the better Government of India of 1858

28. 1890 मध्ये स्थापन केलेल्या राष्ट्रीय सभेच्या ब्रिटिश समितीमध्ये पुढीलपैकी कोणत्या व्यक्ती सहभागी झाल्या होत्या ?

- (1) दादाभाई नौरोजी, लोकमान्य टिळक, ब्राडलॉ, अँडम्स, हॉवर्ड  
(2) युल, ह्यूम, अँडम्स, नॉर्टॉन, हॉवर्ड  
(3) ह्यूम, टिळक, कॅम्बेल, ब्राडलॉ, नॉर्टॉन  
(4) युल, ह्यूम, ब्राडलॉ, नॉर्टॉन, कॅम्बेल

► **Who from amongst the following had participated in the British Committee of National Congress, that was established in 1890?**

- (1) Dadabhai Naoroji, Lokmanya Tilak, Bradlaw, Adams, Howard  
(2) Yule, Hume, Adams, Norton, Howard  
(3) Hume, Tilak, Campbell, Bradlaw, Norton  
(4) Yule, Hume, Bradlaw, Norton, Campbell

29. खालीलपैकी 1935 च्या भारत सरकारच्या कायद्याची वैशिष्ट्ये कोणती ?

- (अ) प्रांतीय स्वायत्तता  
(ब) संघराज्याचे न्यायालय  
(क) केंद्रात द्विदल राज्यपद्धती  
(ड) दोन सभागृह असलेले संघीय कायदे मंडळ

**पर्यायी उत्तरे :**

- (1) अ आणि ड फक्त (2) अ, क, ड फक्त  
(3) अ, ब, क आणि ड (4) ब आणि क फक्त

► **What were the important features of the Government of India Act, 1935 ?**

- (a) Provincial Autonomy  
(b) Federal Court  
(c) Dyarchy at the Centre  
(d) Bicameral Federal Legislature

**Answer Options :**

- (1) a and d only (2) a, c, d only  
(3) a, b, c and d (4) b and c only

30. जोड्या लावून उत्तराचा योग्य पर्याय निवडा.

- (अ) एम. जी. रानडे (i) जमखिंडी  
(ब) जी. जी. आगरकर (ii) टेंभू  
(क) वी. आर. शिंदे (iii) पुणे  
(ड) जी. एच. देशमुख (iv) निफाड

**पर्यायी उत्तरे :**

	(अ)	(ब)	(क)	(ड)
(1)	(ii)	(i)	(iii)	(iv)
(2)	(iii)	(i)	(iv)	(ii)
(3)	(iv)	(ii)	(i)	(iii)
(4)	(ii)	(iv)	(iii)	(i)

► **Match the pairs and choose the appropriate answer option. .**

(a) M. G. Ranade	(i) Jamkhindi
(b) G. G. Agarkar	(ii) Tembhu
(c) V. R. Shinde	(iii) Pune
(d) G. H. Deshmukh	(iv) Niphad

**Answer Options :**

	(a)	(b)	(c)	(d)
(1)	(ii)	(i)	(iii)	(iv)
(2)	(iii)	(i)	(iv)	(ii)
(3)	(iv)	(ii)	(i)	(iii)
(4)	(ii)	(iv)	(iii)	(i)

31. **‘पंडिता रमाबाईंशी निगडित चुकीचे विधान ओळखा.**

- (1) ‘शारदासदन’ आणि ‘मुक्तिसदना’ची स्थापना
- (2) ‘स्त्रीकोश’ या पुस्तकातून स्त्रियांचे वर्णन केले.
- (3) निराश्रित विधवा स्त्रियांसाठी ‘कृपासदन’, ‘प्रीतीसदन’
- (4) त्यांच्या कार्याबद्दल कैसर-ई-हिंद’ ही पदवी बहाल

► **Identify the wrong statement about 'Pandita Ramabai'.**

- (1) Establishment of 'Sharda Sadan' and 'Mukti Sadan'
- (2) Wrote about women in the book 'Strikosh'
- (3) 'Kripa Sadan', 'Preeti Sadan' for the shelterless widows
- (4) The honour of 'Kaiser-e-Hind' was conferred on her in recognition of her work.

32. **जोड्या लावून उत्तराचा योग्य पर्याय निवडा.**

(अ) अखिल भारतीय ट्रेड युनियन काँग्रेस	(i)	1936
(ब) अखिल भारतीय किसान काँग्रेस	(ii)	1920
(क) गिरणी कामगार संघ	(iii)	1918
(ड) अहमदाबाद टेक्सटाईल लेबर असोसिएशन	(iv)	1928

**पर्यायी उत्तरे :**

	(अ)	(ब)	(क)	(ड)
(1)	(ii)	(i)	(iv)	(iii)
(2)	(iii)	(iv)	(i)	(ii)
(3)	(ii)	(i)	(iii)	(iv)
(4)	(i)	(ii)	(iv)	(iii)

► **Choose the appropriate option by matching the pairs.**

(a) All India Trade Union Congress	(i)	1936
(b) All India Kisan Congress	(ii)	1920
(c) Girni Kamgar Union	(iii)	1918
(d) Ahmedabad Textile Labour Association	(iv)	1928

**Answer Options :**

	(a)	(b)	(c)	(d)
(1)	(ii)	(i)	(iv)	(iii)
(2)	(iii)	(iv)	(i)	(ii)
(3)	(ii)	(i)	(iii)	(iv)
(4)	(i)	(ii)	(iv)	(iii)

33. **मुस्लीम लीगने ‘मुक्ति दिन’ केव्हा साजरा केला ?**

- (1) 1926 मध्ये, जेव्हा स्वराज्य पक्षाने प्रांतातील आपले बहुमत गमाविले.
- (2) 1929 मध्ये, काँग्रेसने पूर्ण स्वराज्याची मागणी जाहीर केली त्यानंतर
- (3) 1932 मध्ये, सरकारने काँग्रेसला बेकायदा घोषित केले तेव्हा.
- (4) 1939 मध्ये, द्वितीय जागतिक महायुद्धात भारताला ढकलले, त्याचा निषेध म्हणून प्रांतातील काँग्रेसच्या मंत्र्यांनी राजीनामे दिले तेव्हा.

► **'When did the Muslim League celebrate the 'Deliverance Day'?**

- (1) In 1926, when Swaraj Party lost its majority in the Provinces.
- (2) In 1929, after the declaration of the demand of Complete Independence by the Congress.
- (3) In 1932, when the Congress was declared illegal by the government.
- (4) In 1939, when the Congress ministers in the Provinces resigned as a protest against the inclusion of India in the Second World War.

34. **पुढीलपैकी कोणती व्यक्ती/कोणत्या व्यक्ती 1857 च्या उठावाशी संबंधित नाही/नाहीत ?**

- (अ) पेटचा राजा भगवंतराव (ब) अजीजन नर्तिका  
(क) गुलमार दुबे (ड) काश्मीरचा राजा गुलाबसिंह

**पर्यायी उत्तरे :**

- (1) अ आणि ब फक्त (2) ब आणि ड फक्त  
(3) अ, ब, क (4) ड फक्त

► **Which of the following persons, is/are not related to the Revolt of 1857?**

- (a) Bhagwantrao, the king of Peth  
(b) Ajijan Dancer  
(c) Gulmar Dube  
(d) Gulabsinha, King of Kashmir

**Answer Options :**

- (1) a and b only (2) b and d only  
(3) a, b, c (4) d only

35. **पुढीलपैकी कोणत्या गोष्टी वि. दा. सावरकरांनी समाज सुधारण्यासाठी केल्या ?**

- (अ) विविध जातीतील स्त्रियांचे हळदी-कुंकू कार्यक्रम योजले.  
(ब) स्पृश्य-अस्पृश्य यांचे एकत्र भोजनाचे कार्यक्रम योजले.  
(क) आंतर-जातीय विवाहांना प्रोत्साहन दिले.  
(ड) धर्मांतर केलेल्या हिंदूंना परत हिंदू धर्मात घेण्यासाठी शुद्धीकरण चळवळ राबवली.

पर्यायी उत्तरे :

- (1) अ, क (2) ब फक्त  
(3) ब, क आणि ड (4) वरील सर्व

► **What is attributed to V. D Savarkar to reform the society ?**

- (a) Arranged Haldi-Kumku programmes for the ladies of different castes.  
(b) Arranged common meals for the touchables and untouchables.  
(c) Encouraged inter-caste marriages.  
(d) Undertook purification programmes for those Hindus, who were converted and wanted to be taken back in the Hindu religion.

**Answer Options :**

- (1) a, c (2) b only  
(3) b, c and d (4) All of the above

36. पुढील स्त्रियांपैकी कोणत्या स्त्रिये विदर्भातील स्त्रियांकरिता पहिली रात्रशाळा सुरू केली ?

- (1) नंदाताई गवळी (2) जाईबाई चौधरी  
(3) वेणूताई भटकर (4) तुळसाबाई बनसोडे

► **Who, from amongst the following women, started the first night school for women in Vidharbha?**

- (1) Nandatai Gaoli (2) Jaibai Chaudhari  
(3) Venutai Bhatkar (4) Tulsabai Bansode

37. 19 व्या शतकामध्ये भारतीय इतिहासाची पहिल्यांदा आर्थिक दृष्टिकोनातून कोणी मांडणी केली आहे ?

- अ. दादाभाई नौरोजी ब. न्या. एम. जी. रानडे  
क. रोमेशचंद्र दत्त ड. आर. सी. मजुमदार

पर्यायी उत्तरे :

- (1) अ फक्त (2) अ आणि ब फक्त  
(3) अ, ब आणि क (4) अ आणि ड फक्त

► **Who looked at the Indian History from the economic point of view for the first time in the 19th century ?**

- (a) Dadabhai Naoroji (b) Justice M. G. Ranade  
(c) Romesh Chandra Dutt (d) R. C. Majumdar

**Answer Options :**

- (1) a only (2) a and b only  
(3) a, b and c (4) a and d only

38. खालीलपैकी अयोग्य विधान ओळखा :

- (1) राष्ट्रसभेची स्थापना 1885 मध्ये झाली.  
(2) राष्ट्रसभेचे पहिले अधिवेशन पुणे येथे भरले होते.  
(3) राष्ट्रसभेचे जनक अॅलन ह्यूम होते.  
(4) इंग्रजांच्या न्यायबुद्धीवर राष्ट्रसभेच्या नेत्यांची दृढ श्रद्धा होती.

► **Identify the incorrect statement from the following:**

- (1) National Congress was founded in 1885.  
(2) First Session of National Congress was held at Pune.  
(3) Allen Hume was the father of the National Congress.  
(4) The members of the National Congress had a strong faith in the British sense of justice.

39. पुढील घटनांची कालानुक्रमे मांडणी करा :

- (अ) नेहरू रिपोर्ट (ब) सायमन कमिशन  
(क) मुडीमन कमिशन (ड) प्रांतीय द्विदलशासन पद्धती

पर्यायी उत्तरे :

- (1) अ, ब, क, ड (2) ड, क, ब, अ  
(3) ड, ब, क, अ (4) ब, क, अ, ड

► **Arrange the following events in their chronological order :**

- (a) Nehru Report  
(b) Simon Commission  
(c) Muddiman Commission  
(d) Provincial Dyarchy System

**Answer Options :**

- (1) a, b, c, d (2) d, c, b, a  
(3) d, b, c, a (4) b, c, a, d

40. ‘द ग्रेट रिबेलियन’ या पुस्तकाचे लेखक कोण ?

- (1) अशोक कोठारी (2) अशोक मेहता  
(3) डॉ. एस.एन. सेन (4) वी. डी. सावरकर

► **Who is the author of the book 'The Great Rebellion'?**

- (1) Ashok Kothari (2) Ashok Mehta  
(3) Dr. S. N. Sen (4) V. D Savarkar

41. महाराष्ट्रातील खालीलपैकी कोणती नदी जवळपास उत्तरेकडून दक्षिणेकडे वाहते ?

- (1) तापी (2) वैनगंगा  
(3) नर्मदा (4) कृष्णा

► **Which of the following rivers flows almost from north to south in Maharashtra ?**

- (1) Tapi (2) Vainaganga  
(3) Narmada (4) Krishna

42. महाराष्ट्रातील एकाच नावाचे तालुके व जिल्हे यांच्या जोड्या लावा.

- | तालुके     | जिल्हे                  |
|------------|-------------------------|
| (अ) खेड    | (i) रायगड, अहमदनगर      |
| (ब) कर्जत  | (ii) रत्नागिरी, पुणे    |
| (क) कळंब   | (iii) नाशिक, अमरावती    |
| (ड) नंदगाव | (iv) उस्मानाबाद, यवतमाळ |

पर्यायी उत्तरे :

- | (अ)      | (ब)   | (क)  | (ड)   |
|----------|-------|------|-------|
| (1) (ii) | (iv)  | (i)  | (iii) |
| (2) (i)  | (ii)  | (iv) | (iii) |
| (3) (ii) | (i)   | (iv) | (iii) |
| (4) (iv) | (iii) | (ii) | (i)   |

► **Match the districts with talukas in Maharashtra having similar names.**

- | Taluka     | District               |
|------------|------------------------|
| (a) Khed   | (i) Raigad, Ahmadnagar |
| (b) Karjat | (ii) Ratnagiri, Pune   |
| (c) Kalamb | (iii) Nashik, Amravati |

(d) Nandgaon (iv) Usmanabad, Yavatmal

**Answer Options :**

	(a)	(b)	(c)	(d)
(1)	(ii)	(iv)	(i)	(iii)
(2)	(i)	(ii)	(iv)	(iii)
(3)	(ii)	(i)	(iv)	(iii)
(4)	(iv)	(iii)	(ii)	(i)

43. खालील यादीतील योग्य जोड्या जुळवा व खाली दिलेल्या यादीतील पर्यायांमधून योग्य पर्याय निवडा :

<b>म्हैस प्रकार</b>	<b>राज्य</b>
(अ) मुन्हा	(i) उत्तर प्रदेश
(ब) भादवरी	(ii) पंजाब
(क) महेसाना	(iii) हरियाणा
(ड) निलीरवी	(iv) गुजरात

**पर्यायी उत्तरे :**

	(अ)	(ब)	(क)	(ड)
(1)	(i)	(ii)	(iii)	(iv)
(2)	(ii)	(iii)	(iv)	(i)
(3)	(ii)	(iv)	(i)	(iii)
(4)	(iii)	(i)	(iv)	(ii)

► **Match the following pairs correctly using options given below the list :**

<b>Type of Buffaloes</b>	<b>State</b>
(a) Murha	(i) Uttar Pradesh
(b) Bhadwari	(ii) Punjab
(c) Mahesana	(iii) Haryana
(d) Niliravi	(iv) Gujarat

**Answer Options :**

	(a)	(b)	(c)	(d)
(1)	(i)	(ii)	(iii)	(iv)
(2)	(ii)	(iii)	(iv)	(i)
(3)	(ii)	(iv)	(i)	(iii)
(4)	(iii)	(i)	(iv)	(ii)

44. खालील यादीमधून योग्य जोड्या जुळवा व खाली दिलेल्या यादीतील पर्यायांमधून योग्य उत्तर निवडा.

<b>जिल्हे</b>	<b>लिंग गुणोत्तर (दर हजारी)</b>
(अ) सिंधुदुर्ग	(i) 932
(ब) रत्नागिरी	(ii) 927
(क) नाशिक	(iii) 1136
(ड) नागपूर	(iv) 1079

**पर्यायी उत्तरे :**

	(अ)	(ब)	(क)	(ड)
(1)	(i)	(ii)	(iii)	(iv)
(2)	(ii)	(iii)	(iv)	(i)
(3)	(iii)	(iv)	(i)	(ii)
(4)	(iv)	(iii)	(ii)	(i)

► **Match and select the correct answer using the options given below the list.**

<b>District</b>	<b>Sex Ratio (per thousand)</b>
(a) Sindhudurg	(i) 932

(b) Ratnagiri (ii) 927  
(c) Nashik (iii) 1136  
(d) Nagpur (iv) 1079

**Answer Options :**

	(a)	(b)	(c)	(d)
(1)	(i)	(ii)	(iii)	(iv)
(2)	(ii)	(iii)	(iv)	(i)
(3)	(iii)	(iv)	(i)	(ii)
(4)	(iv)	(iii)	(ii)	(i)

45. भारतातील कोणत्या उद्योगधंद्यास ‘सनराईज इंडस्ट्री’ असे म्हणतात ?

- (1) खत उद्योगधंदा
- (2) अन्नावर प्रक्रिया करणारा उद्योगधंदा
- (3) लोह आणि पोलाद उद्योगधंदा
- (4) सिमेंट उद्योगधंदा

► **Which of the following industries in India is known as 'Sunrise Industry'?**

- (1) Fertilizer Industry
- (2) Food Processing Industry
- (3) Iron and Steel Industry
- (4) Cement Industry

46. खालीलपैकी कोणता घटक भारताच्या वायव्य भागात हिवाळ्यात पाऊस पडण्यास कारणीभूत ठरतो ?

- (1) प्रत्यावर्त
- (2) पश्चिमी चक्रवात
- (3) मान्सूनची माघार
- (4) नैऋत्य मान्सून

► **Which of the following factors causes rainfall in winter in north-west part of India ?**

- (1) Anticyclones
- (2) Western disturbances
- (3) Retreating monsoons
- (4) South-west monsoons

47. धबधबे आणि त्यांची ठिकाणे यांच्या योग्य जोड्या लावा :

<b>धबधबे</b>	<b>ठिकाण</b>
(अ) मार्लेश्वर	(i) सातारा
(ब) ठोसेघर	(ii) रत्नागिरी
(क) सौताडा	(iii) अहमदनगर
(ड) रंधा	(iv) बीड

**पर्यायी उत्तरे :**

	(अ)	(ब)	(क)	(ड)
(1)	(ii)	(iii)	(i)	(iv)
(2)	(iv)	(iii)	(ii)	(i)
(3)	(i)	(iv)	(iii)	(ii)
(4)	(ii)	(i)	(iv)	(iii)

► **Match the following waterfalls with their places :**

<b>Waterfall</b>	<b>Place</b>
(a) Marleshwar	(i) Satara
(b) Thoseghar	(ii) Ratnagiri
(c) Sautada	(iii) Ahmadnagar
(d) Randha	(iv) Beed



**Answer Options :**

	(a)	(b)	(c)	(d)
(1)	(ii)	(iii)	(i)	(iv)
(2)	(iv)	(iii)	(ii)	(i)
(3)	(i)	(iv)	(iii)	(ii)
(4)	(ii)	(i)	(iv)	(iii)

48. राष्ट्रीय महामार्ग क्र. 6 व 7 खालीलपैकी कोणत्या शहरात एकमेकांना छेदतात ?

- (1) भोपाळ (2) हैदराबाद  
(3) नागपूर (4) रायपूर

► In which of the following cities do National Highways No. 6 and 7 cross each other ?

- (1) Bhopal (2) Hyderabad  
(3) Nagpur (4) Raipur

49. खालील आदिवासी जमातींच्या त्यांच्या राहण्याच्या प्रदेशानुसार जोड्या जुळवा व खालील पर्यायांमधून योग्य उत्तर निवडा:

प्रमुख आदिवासी जमाती	राहात असलेला प्रदेश
(अ) गोंड	(i) अमरावती जिल्हा
(ब) भील	(ii) ठाणे जिल्हा
(क) कोरकू	(iii) धुळे व नंदूरबार जिल्हे
(ड) वारली	(iv) चंद्रपूर व गडचिरोली जिल्हे

पर्यायी उत्तरे :

	(अ)	(ब)	(क)	(ड)
(1)	(i)	(ii)	(iii)	(iv)
(2)	(ii)	(i)	(iv)	(iii)
(3)	(iii)	(iv)	(ii)	(i)
(4)	(iv)	(iii)	(i)	(ii)

► Match the following Adivasi tribes with their areas of settlement correctly from the options given below :

Major Adivasi tribes	Areas of Settlement
(a) Gond	(i) Amravati district
(b) Bhil	(ii) Thane district
(c) Korku	(iii) Dhule and Nandurbar districts
(d) Warali	(iv) Chandrapur and Gadchiroli districts

**Answer Options :**

	(a)	(b)	(c)	(d)
(1)	(i)	(ii)	(iii)	(iv)
(2)	(ii)	(i)	(iv)	(iii)
(3)	(iii)	(iv)	(ii)	(i)
(4)	(iv)	(iii)	(i)	(ii)

50. खालील विधानांचा विचार करा :

- (अ) सुवर्ण चतुर्भुज मार्ग दिल्ली, मुंबई, बँगलुरु व कोलकाता या प्रमुख शहरांना जोडतो.  
(ब) उत्तर-दक्षिण कॉरिडॉर (मार्ग) हैदराबादमधून जातो.  
वरीलपैकी कोणते विधान/विधाने बरोबर आहे/आहेत ?  
(1) अ फक्त (2) ब फक्त

- (3) अ व ब दोन्ही (4) अ व ब दोन्हीही नाहीत

► Consider the following statements :

- (a) The Golden Quadrilateral connects the four major cities of Delhi, Mumbai, Bengaluru and Kolkata  
(b) The North-South corridor passes through Hyderabad  
Which of the statements given above is/are correct?

- (1) a only (2) b only  
(3) a and b both (4) Neither a nor b

51. कैमूरच्या टेकड्या खालीलपैकी कोणत्या पर्वतरांगात आहेत ?

- (1) विंध्य रांगा (2) सातपुडा रांगा  
(3) कराकोरम रांगा (4) कोल्ली रांगा

► Kaimur hills is situated in which of the following mountain ranges ?

- (1) Vindhya range (2) Satpura range  
(3) Karakoram range (4) Kolli hills

52. खालील विधानांचा विचार करा :

- (अ) घडीच्या पर्वतांत विविध प्रकारच्या खडकांची संरचना असते आणि खोल दऱ्या व उंच शंकू आकाराची शिखरे असतात.

- (ब) घडीच्या पर्वतांची निर्मिती टेन्साईल फोर्सेसमुळे होते, वरीलपैकी कोणते विधान/विधाने बरोबर आहे/आहेत ?

- (1) फक्त अ (2) फक्त ब  
(3) अ आणि ब दोन्ही (4) अ व ब दोन्हीही नाहीत

► Consider the following statements :

- (a) Fold mountains are known for variety of rocks structures, deep gorges and high pyramid peaks.  
(b) Tensile forces contribute to formation of the fold mountains.

Which of the statements given above is/are correct?

- (1) a Only (2) Only b  
(3) Both a and b (4) Neither a nor b

53. जोड्या लावा :

जिल्हे	साक्षरता (%)
(अ) धुळे	(i) 72.8
(ब) नागपूर	(ii) 88.4
(क) नंदूरबार	(iii) 64.4
(ड) अमरावती	(iv) 87.4

पर्यायी उत्तरे :

	(अ)	(ब)	(क)	(ड)
(1)	(i)	(iv)	(iii)	(ii)
(2)	(ii)	(iv)	(i)	(iii)
(3)	(i)	(ii)	(iii)	(iv)
(4)	(iv)	(ii)	(iii)	(i)

► Match the following:

District	Literacy (%)
(a) Dhule	(i) 72.8
(b) Nagpur	(ii) 88.4
(c) Nandurbar	(iii) 64.4
(d) Amravati	(iv) 87.4

**Answer Options :**

	(a)	(b)	(c)	(d)
(1)	(i)	(iv)	(iii)	(ii)
(2)	(ii)	(iv)	(i)	(iii)
(3)	(i)	(ii)	(iii)	(iv)
(4)	(iv)	(ii)	(iii)	(i)

**54. खालील विधाने विचारात घ्या :**

(अ) उत्तर अमेरिका मुक्त व्यापार करार (NFT) 1994 साली अस्तित्वात आला,

(ब) फ्रान्स हा NFT च्या संस्थापक सदस्यांपैकी एक होता. वरीलपैकी कोणते विधान/विधाने चूक आहे/आहेत ?

- (1) फक्त अ (2) फक्त ब  
(3) अ आणि ब दोन्ही (4) अ आणि ब दोन्हीही नाहीत

► **Consider the following statements :**

(a) North American Free Trade greement came into force in 1994.

(b) France was one of the founder members of NFTA.

**Which of the statements given above is/are incorrect?**

- (1) a Only (2) Only b  
(3) Both a and b (4) Neither a nor b

**55. विषुववृत्तीय सदाहरित जंगलासंबंधी खालीलपैकी कोणते वैशिष्ट्य बरोबर आहे ?**

- (अ) अत्यंत दाट आहेत.  
(ब) वार्षिक पानगळ होते.  
(क) लाकूड टणक आणि टिकाऊ आहे.  
(ड) एकाच प्रकारच्या वृक्षांची नसतात.

**पर्यायी उत्तरे :**

- (1) फक्त अ (2) फक्त अ, क आणि ड  
(3) फक्त क (4) फक्त ब आणि क

► **Which of the following features of Tropical Evergreen forests is/are correct?**

- (a) Very dense forest.  
(b) Trees shed their leaves annually.  
(c) Timber is hard and durable.  
(d) Lack of pure stands.

**Answer Options :**

- (1) a Only (2) Only a, c and d  
(3) a Only c (4) Only b and c

**56. जोड्या लावा :**

गट अ	गट ब
(अ) एम.आर.टी.पी. कायदा	(i) 2002
(ब) स्पर्धा कायदा	(ii) 1969
	(iii) पक्षपाती व्यापार प्रथांना बंदी
	(iv) स्पर्धाविषयक गुन्हे यांची व्याख्या दिली

**पर्यायी उत्तरे :**

अ	ब
(1) ii आणि iii	i आणि iv
(2) ii आणि iv	i आणि iii
(3) i आणि iii	ii आणि iv
(4) i आणि iv	ii आणि iii

► **Match the following:**

Group A	Group B
(a) MRTP Act	(i) 2002
(b) Competition Act	(ii) 1969
	(iii) Unfair trade practices covered
	(iv) Competition offences defined

**Answer Options :**

A	B
(1) ii and iii	i and iv
(2) ii and iv	i and iii
(3) i and iii	ii and iv
(4) i and iv	ii and iii

**57. 2008 - 09 वर्षाशी तुलना केली असता 2012 - 13 साली भारतातील 2004 - 05 च्या किमतीवर आधारित वास्तव स्थूल देशांतर्गत उत्पादनातील विविध क्षेत्रांच्या वाट्यातील प्रवृत्ती (कल) खालील प्रमाणे दिसून येतो :**

- (अ) कृषिक्षेत्राच्या वाट्यात (हिस्सा) घट झाली.  
(ब) उद्योगक्षेत्राच्या वाट्यात वाढ झाली.  
(क) सेवाक्षेत्राच्या वाट्यात वाढ झाली.

**वरीलपैकी कोणते विधान/विधाने बरोबर आहेत ?**

- (1) अ फक्त (2) ब आणि क फक्त  
(3) अ आणि क फक्त (4) अ, ब आणि क

► **In India, in the year 2012 - 13, as compared to 2008 - 09, the changes in the share of different sectors in real Gross Domestic Product based on 2004 - 05 prices show the following trends :**

- (a) The share of agriculture sector has declined  
(b) The share of industrial sector has increased  
(c) The share of service sector has increased

**Which of the statements given above is/are correct?**

- (1) a only (2) b and c only  
(3) a and c only (4) a, b and c

**58. मानवी विकास निर्देशांक हा यातील सरासरी यशाचे मापन करतो.**

- (अ) दीर्घ आणि निरोगी आयुष्य.  
(ब) प्रौढ साक्षरतेच्या संदर्भातील ज्ञान.  
(क) दारिद्र्य रेषेखालील लोकसंख्येची टक्केवारी.

**पर्यायी उत्तरे :**

- (1) वरील सर्व अ, ब आणि क  
(2) अ आणि क फक्त  
(3) ब आणि क फक्त  
(4) अ आणि ब फक्त

► **Human Development Index measures average achievements in**

- (a) Long and healthy life  
(b) Knowledge in terms of adult literacy  
(c) Percentage of population below poverty line

**Answer Options :**

- (1) All the a, b and c above  
(2) a and c only  
(3) b and c only  
(4) a and b only

59. **खालीलपैकी कोणते विधान योग्य आहे ?**

- (अ) सन 2011-12 मध्ये स्थूल देशांतर्गत उत्पादनातील सेवा क्षेत्राचा हिस्सा 59% एवढा होता.  
(ब) दळणवळण, व्यावसायिक सेवा आणि वित्त यात उच्च वृद्धीदर आढळून आला आहे.

**पर्यायी उत्तरे :**

- (1) अ फक्त बरोबर आहे  
(2) ब फक्त बरोबर आहे  
(3) अ आणि ब दोन्ही बरोबर आहेत  
(4) अ आणि ब दोन्ही चूक आहेत

► **Which of the following statements is correct ?**

- (a) The share of services in GDP was 59% in 2011 -12.  
(b) High growth rates are witnessed in communication, business services and finance.

**Answer Options :**

- (1) a only is correct  
(2) b only is correct  
(3) Both a and b are correct  
(4) Both a and b are incorrect

60. (अ) **प्रधानमंत्री रोजगार निर्माण कार्यक्रम (PMEGP) ऑगस्ट 2008 मध्ये सुरू करण्यात आला.**

- (ब) PMEGP अंतर्गत ग्रामीण/शहरी भागात सूक्ष्म उद्योग स्थापन करण्याचा हेतू होता.  
(क) प्रधानमंत्री रोजगार योजना (PMRY) ही PMEGP मध्ये विलीन केली गेली.

**पर्यायी उत्तरे :**

- (1) अ फक्त बरोबर आहे  
(2) अ आणि ब फक्त बरोबर आहेत  
(3) क फक्त बरोबर आहे  
(4) अ, ब आणि क सर्व बरोबर आहेत.

► (a) **Prime Minister's Employment Generation Programme (PMEGP) was started in August 2008.**

- (b) PMEGP aimed at setting up micro enterprises in rural/urban areas.  
(c) Prime Minister Rozgar Yojana (PMRY) was merged with PMEGP.

**Answer Options :**

- (1) a only is correct (2) a and b only are correct  
(3) c only is correct (4) a, b and c are correct

61. **‘राज्य व्यापार महामंडळ’ पुढीलपैकी कोणते कार्य करीत नाही ?**

- (अ) निर्यातयोग्य वस्तुंच्या उत्पादनात वाढ घडवून आणणे.  
(ब) पारंपरिक वस्तुंच्या निर्यातीस प्रोत्साहन देणे.  
(क) अपारंपरिक वस्तुंच्या निर्यातीस प्रोत्साहन देणे.  
(ड) वरीलपैकी कोणतेही नाही

**पर्यायी उत्तरे :**

- (1) अ आणि ब फक्त (2) ब फक्त  
(3) अ आणि क फक्त (4) ड फक्त

► **Which of the following functions is not performed by 'State Trade Corporation'?**

- (a) To increase the production of exportable goods  
(b) To promote the export of traditional goods  
(c) To promote the export of non-traditional goods  
(d) None of the above

**Answer Options :**

- (1) a and b only (2) b only  
(3) a and c only (4) d only

62. **जोड्या लावा :**

गट अ	गट ब
(अ) गॅट	(i) 1986
(ब) उरूग्वे फेर	(ii) 1993
(क) डंकल प्रस्ताव	(iii) 1948
(ड) विश्व व्यापार संघटना	(iv) 1995

**पर्यायी उत्तरे :**

(अ)	(ब)	(क)	(ड)
(1) (iii)	(i)	(ii)	(iv)
(2) (iii)	(i)	(iv)	(ii)
(3) (iii)	(ii)	(iv)	(i)
(4) (iv)	(iii)	(ii)	(i)

► **Match the following:**

Group A	Group B
(a) GATT	(i) 1986
(b) Uruguay Round	(ii) 1993
(c) Dunkel Proposal	(iii) 1948
(d) WTO	(iv) 1995

**Answer Options :**

(a)	(b)	(c)	(d)
(1) (iii)	(i)	(ii)	(iv)
(2) (iii)	(i)	(iv)	(ii)
(3) (iii)	(ii)	(iv)	(i)
(4) (iv)	(iii)	(ii)	(i)

63. **कमाल जमीन धारणा कायदा दोन टप्प्यांमध्ये लागू करण्यात आला.**

- (1) 1961 पर्यन्त व 1962 नंतर  
(2) 1971 पर्यन्त व 1972 नंतर  
(3) 1972 पर्यन्त व 1972 नंतर  
(4) 1982 पर्यन्त व 1982 नंतर

► **Ceiling on Land Holdings Act was applied in two stages.**

- (1) Upto 1961 and after 1962
- (2) Upto 1971 and after 1972
- (3) Upto 1972 and after 1972
- (4) Upto 1982 and after 1982

64. खालील विधानांचा विचार करा :

- (अ) थेट कर संहिता आणि वस्तू व सेवा करांची सुरुवात
- (ब) करचुकवेगिरी विरोधातील साधारण नियमांबाबत स्पष्ट धोरण

(क) वित्तीय सर्वसमावेशकतेबाबची समिती

पर्यायी उत्तरे :

- (1) अ आणि ब या क ने सुचविलेल्या करसुधारणा आहेत.
- (2) अ फक्त ही प्रस्तावित करसुधारणा आहे.
- (3) ब फक्त ही प्रस्तावित करसुधारणा आहे.
- (4) अ आणि ब या क ने सुचविल्या नाहीत.

► Consider the following statements :

- (a) Introduction of Direct Tax Code and Goods and Services Tax.
- (b) Clear Policy on General Anti Avoidance Rules.
- (c) Committee on Financial Inclusion

Answer Options :

- (1) a, and b are proposed tax reforms recommended by c
- (2) a only is a proposed tax reform
- (3) b only is a proposed tax reform
- (4) a and B are not recommended by c

65. तुटीचा अर्थभरणा करण्याचे खालीलपैकी कोणते आधुनिक उद्दिष्ट नाही ?

- (1) आर्थिक विकासासाठी वित्तव्यवस्था करणे
- (2) नियोजनासाठी भांडवल पुरविणे
- (3) अर्थव्यवस्थेला मंदीतून बाहेर काढणे
- (4) विकासयोजनेसाठी वित्तपुरवठा करणे

► Which of the following is not the modern objective of deficit financing ?

- (1) Provision of funds for economic development
- (2) Provision of credit for planning
- (3) To pull out the economy from depression
- (4) Supply of credit for development programme

66. पुढील विधानांचा विचार करा :

- (अ) नवे औद्योगिक धोरण 24 जुलै, 1991 रोजी जाहीर केले गेले.
- (ब) सार्वजनिक क्षेत्रातील उद्योगांसाठी निर्गुतवणुकीचे धोरण स्वीकारण्यात आले.

पर्यायी उत्तरे :

- (1) अ बरोबर तर ब चूक आहे
- (2) अ हे धोरण तर ब हा त्याचा परिणाम आहे
- (3) ब बरोबर तर अ चूक आहे
- (4) अ आणि ब हे एकमेकांशी संबंधित नाहीत

► Consider the following statements :

- (a) New industrial policy was announced on 24<sup>th</sup> July, 1991.

- (b) Disinvestment policy was adopted for the public sector enterprises.

Answer Options :

- (1) a is correct and b is incorrect
- (2) a is a policy reason and b is a result
- (3) b is correct but a is incorrect
- (4) a and b are not related with each other

67. श्रमिकाची 'शून्य सीमांत उत्पादकता' म्हणजे

- (1) तांत्रिक बेकारी
- (2) छुपी बेकारी
- (3) अर्ध बेकारी
- (4) हंगामी बेकारी

► 'Zero Marginal Productivity' of labour means

- (1) Technological unemployment
- (2) Disguised unemployment
- (3) Underemployment
- (4) Seasonal unemployment

68. 'दारिद्र्यरूपी समुद्राच्या बेटावर आपण आनंदाने जगू शकत नाही' हे पुढीलपैकी कोणाचे मत आहे ?

- (अ) स्वामी विवेकानंद
- (ब) सोनिया गांधी
- (क) एम. एस. स्वामीनाथन
- (ड) डॉ. व्ही.एम. दांडेकर

पर्यायी उत्तरे :

- (1) अ फक्त
- (2) ब आणि क फक्त
- (3) क फक्त
- (4) क आणि ड फक्त

► We can't live happily as islands in a sea of poverty' is the opinion of

- (a) Swami Vivekanand
- (b) Sonia Gandhi
- (c) M. S. Swaminathan
- (d) Dr. V. M. Dandekar

Answer Options :

- (1) a only
- (2) b and c only
- (3) c only
- (4) c and d only

69. 2013-14 च्या भारताच्या अर्थसंकल्पीय अंदाजाप्रमाणे एकूण राजकोषीय तूट स्थूल राष्ट्रीय उत्पादनाच्या 4.8 प्रतिशत पर्यंत योजनापूर्वक कमी करण्याचे पुढील प्रयत्नाद्वारे साध्य करणे अपेक्षित होते :

- (अ) निर्गुतवणुकीच्या प्राप्तीस अधिक चालना देणे
- (ब) कर महसूल आणि दूरसंचरण क्षेत्रातील प्राप्तीस अधिक चालना देणे

(क) अर्थसाहाय्यावरील खर्चात कपात करणे

वरीलपैकी कोणते विधान/विधाने बरोबर आहेत ?

- (1) अ फक्त
- (2) ब आणि क फक्त
- (3) अ आणि क फक्त
- (4) अ, ब आणि क

► The planned reduction in the Gross Fiscal Deficit to 4.8 percent of Gross Domestic Product in 2013 - 14 Budget Estimate of India, is expected to be achieved through following efforts :

- (a) Higher mobilisation of disinvestment proceeds
- (b) Higher mobilisation of tax-revenues and telecommunications receipts
- (c) Reduction in expenditure on subsidies

Which of the statements given above is/are correct?

- (1) a only (2) b and c only  
(3) a and c only (4) a, b and c

70. पुढील कोणते विधान योग्य आहे ?

- (अ) हरितक्रांतीपूर्व काळात भारताने अन्नधान्याची आयात PL-480 या कायदानुसार केली होती.  
(ब) PL-480 कायदानुसार केलेल्या आयातीत मुख्य हिस्सा गहू या अन्नधान्याचा होता.

पर्यायी उत्तरे :

- (1) अ आणि ब दोन्हीही बरोबर आहेत.  
(2) अ आणि ब दोन्हीही चूक आहेत.  
(3) अ फक्त बरोबर आहे.  
(4) ब फक्त बरोबर आहे.

Which one of the following statements is correct?

- (a) India imported foodgrains under the act PL-480 before Green Revolution.  
(b) Wheat was the major component of PL-480 imports.

Answer Options :

- (1) a and b are correct (2) a and b are incorrect  
(3) a only is correct (4) b only is correct

71. (अ) अतिनील किरणांचा भाग हा गर्द जांभळ्या रंगाच्या तरंग

- लांबी ‘पेक्षा लहान तरंग लांबी’ चा वर्णपट भाग आहे.  
(ब) ‘इन्फ्रारेड’ भाग हा लाल रंगपेक्षा कमी ‘तरंग लांबी’ वर्णपटाचा भाग आहे.  
(क) एका त्रिकोणाकृती घनाच्या द्रव्यासाठी, वक्रीभवन-निर्देशांक, वेगवेगळ्या रंगांसाठी वेगवेगळा असतो.

वरीलपैकी कोणती विधाने बरोबर आहेत ?

- (1) अ आणि ब (2) अ आणि क  
(3) ब आणि क (4) यापैकी नाही

(a) Ultraviolet region is the region of the spectrum of wavelengths, shorter than violet colour.

- (b) 'Infrared' region is the region of the spectrum, shorter than red colour.  
(c) The refractive index for the material of a prism is different for different colours.

Which of the above statements are correct?

- (1) a and b (2) a and c  
(3) b and c (4) None of these

72. (अ) नैसर्गिक वायू हा हायड्रोजन व कार्बन यांचे संयुग असतो.

- (ब) मिथेन हे, हायड्रोजन व कार्बनचे संयुग नसते.  
(क) नैसर्गिक वायू हे ‘वनस्पती व प्राणी’ जन्य इंधन आहे.

वरीलपैकी कोणती विधाने योग्य आहेत ?

- (1) अ आणि ब (2) ब आणि क  
(3) अ आणि क (4) यापैकी नाही

(a) Natural gas is a hydrocarbon.

- (b) Methane is not a hydrocarbon.  
(c) Natural gas is a fossil fuel.

Which of the above statements are proper ?

- (1) a and b (2) b and c  
(3) a and c (4) None of these

73. ‘बिग-बॅंग थेअरी’ हा प्रत्यक्षात इतिहास पूर्वकालीन अणूचा सिद्धांत प्रथम, ..... नी प्रस्तावित केला.

- (1) अल्बर्ट आईनस्टीन (2) जॉर्जेस लिमैत्रे  
(3) आयझॅक न्यूटन (4) स्टीफन हॉकींग

The 'Big-Bang theory' is actually the hypothesis of the primeval atom, first proposed by

- (1) Albert Einstein (2) Georges Lemaitre  
(3) Isaac Newton (4) Stephen Hawking

74. ब्रास हा मिश्रधातू खालीलपैकी कोणत्या घटकांनी बनलेला असतो ?

- (1) कॉपर 80% + झिंक 10% + टीन 10%  
(2) कॉपर 80% + झिंक 20%  
(3) कॉपर 80% + टीन 20%  
(4) कॉपर 90% + टीन 10%

What is the composition of Brass alloy ?

- (1) Cu 80% + Zn 10% + Sn 10%  
(2) Cu 80% + Zn 20%  
(3) Cu 80% + Sn 20% (4) Cu 90% + Sn 10%

75. फिनॉल हे .....

- (1) अॅरोमॅटीक संयुग आहे.  
(2) अॅलिफॅटीक संयुग आहे.  
(3) हेटरोसायक्लिक संयुग आहे.  
(4) वरीलपैकी कोणतेही नाही.

Phenol is a/an

- (1) Aromatic compound  
(2) Aliphatic compound  
(3) Heterocyclic compound  
(4) None of the above

76. विरंजक चूर्ण वापरून पाण्याला निर्जंतुक करताना, निर्जंतुक प्रक्रिया कशामुळे होते ?

- (अ) क्लोरीन वायू (ब) हायपोक्लोरोस आम्ल  
(क) नवजात ऑक्सिजन (ड) कार्बन डायऑक्साईड

पर्यायी उत्तरे :

- (1) अ, ब आणि क (2) अ, ब आणि ड  
(3) ब, क आणि ड (4) वरील सर्व

In sterilization of water using bleaching powder, the sterilization action is due to

- (a) Cl<sub>2</sub> (b) HOCl  
(c) Nascent oxygen (d) CO<sub>2</sub>

Answer Options :

- (1) a, b and c (2) a, b and d  
(3) b, c and d (4) All of the above

77. आधुनिक मानवापेक्षा कोणत्या मानवाच्या पूर्वजामध्ये कर्पारगुहिकेची क्षमता अधिक होती ?

- (1) निअंडरथल मॅन (2) जावा मॅन

- (3) पेकींग मॅन (4) क्रो-मॅग्नॉन मॅन
- **Which primitive man had greater cranial capacity than the modern man ?**
- (1) Neanderthal man (2) Java man  
(3) Peking man (4) Cro-Magnon man
- 
78. **खालीलपैकी कोणता सस्तन प्राणी अंडी घालतो ?**
- (1) कंगारू (2) प्लॅटीपस  
(3) पेंग्वीन (4) व्हेल
- **Which of the following is an egg laying mammal ?**
- (1) Kangaroo (2) Platypus  
(3) Penguin (4) Whale
- 
79. **खालीलपैकी कोणत्या प्राण्याचे हृदय चार कप्प्यांचे असते ?**
- (1) बेडूक (2) मगर  
(3) शार्क (4) पाल
- **Four chambered heart is present in**
- (1) Frog (2) Crocodile  
(3) Shark (4) Lizard
- 
80. **पानांवरील केवडा रोग कोणत्या खनिज द्रव्याच्या अभावामुळे होतो ?**
- (1) बोरॉन (B) (2) मॉलीब्डेनम (Mo)  
(3) कोबाल्ट (Co) (4) लोह (Fe)
- **Leaf chlorosis is caused by the deficiency of mineral element.**
- (1) Boron (B) (2) Molybdenum (Mo)  
(3) Cobalt (Co) (4) Iron (Fe)
- 
81. **वनस्पति वर्गीकरणाची नैसर्गिक गुणांवर आधारित सर्वात चांगली आणि लोकप्रिय पद्धती खालीलपैकी कोणी शोधून काढली ?**
- (1) बेनथम आणि हुकर (2) केरोलस लिनीयस  
(3) डॉल्फ एंजलर (4) चार्ल्स बेस्सी
- **Who discovered the best and most popular natural system of plant classification?**
- (1) Bentham and Hooker (2) Carolus Linnaeus  
(3) Adolf Engler (4) Charles Bessey
- 
82. **वनस्पती वर्गीकरणातील खालीलपैकी पायाभूत घटक कोणता ?**
- (1) जीनस (2) कुळ  
(3) ऑर्डर (4) स्पीशीज
- **Which of the following is a basic unit of plant classification?**
- (1) Genus (2) Family  
(3) Order (4) Species
- 
83. .... हे शरीरातील कॅल्शियम व फॉस्फरसच्या आंतरिक मात्रेसाठी (शोषणासाठी) जबाबदार आहे.
- (1) जीवनसत्व अ (2) जीवनसत्व ड  
(3) जीवनसत्व ई (4) जीवनसत्व के
- ..... is important for the absorption of calcium and phosphorus in the body.
- (1) A Vitamin (2) Vitamin D  
(3) Vitamin E (4) Vitamin K

84. **अंड्यातील कोणत्या भागात प्रमुखतः प्रथिने असतात, ज्यामुळे त्याला पूर्णान्न म्हणतात ?**
- (1) पांढरा बलक  
(2) पिवळा बलक  
(3) पांढरा व पिवळा बलक आणि कवच  
(4) अंड्यात प्रथिनेच नसतात
- **Egg is good source of complete food Which part contains maximum proteins?**
- (1) Egg white  
(2) Egg yolk  
(3) Egg white yolk together with shell  
(4) Egg does not have proteins
- 
85. .... चा उपयोग फळांसाठी बुरशीरोधक (anti fungal) म्हणून केला जातो.
- (1) कार्बामिथॅझोल (2) बेनोमिल  
(3) थायोसल्फेट (4) बेंझॉइक अॅसिड
- ..... is used as an anti fungal agent for fruits.
- (1) Carbamethazole (2) Benomyl  
(3) Thiosulphate (4) Benzoic acid

86.

अ. क्र.	व्यक्तिचे नाव	उत्पादन (क्व्दिलमधे)	
		ज्वारी	गहू
1	श्याम	80	70
2	राजीव	60	40
3	संतोष	50	60
4	रहीम	70	80
5	अविनाश	40	50

वरील तक्त्यावरून सर्व व्यक्तींच्या ज्वारी व गहू यांच्या एकूण उत्पादनाच्या 50% उत्पादन करणारी व्यक्तीची जोडी कोणती ?

- (1) श्याम आणि राजीव (2) श्याम आणि रहीम  
(3) संतोष आणि अविनाश (4) अविनाश आणि रहीम

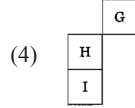
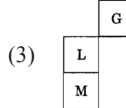
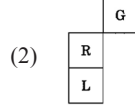
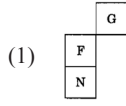
Sr. No.	Name of person	Production (Quintals)	
		Jawar	Wheat
1	Shyam	80	70
2	Rajiv	60	40
3	Santosh	50	60
4	Rahim	70	80
5	Avinash	40	50

From the above table, find out the pair of persons who produce 50% of wheat and jawar of all the persons.

- (1) Shyam and Rajiv (2) Shyam and Rahim  
(3) Santosh and Avinash (4) Avinash and Rahim

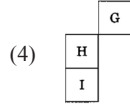
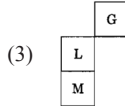
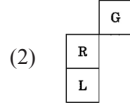
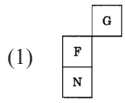
87. **चौरस पूर्ण करण्यासाठी प्रश्नचिन्हांच्या (?) ठिकाणी नसलेल्या वर्णाक्षरांचा संच निवडा.**

G	P	?
K	?	Q
R	?	L



- Choose the missing set of alphabets in place of (?) for completing the square.

G	P	?
K	?	Q
R	?	L



88. मुंबईहून पुण्याला जाणाऱ्या दोन बसगाडयांपैकी पहिली गाडी सकाळी 8 वाजता ताशी 80 km वेगाने सुटली. त्यानंतर त्याच दिवशी दुसरी गाडी सकाळी 9 वाजता ताशी 100 km वेगाने सुटली तर त्या दोन्ही गाडया एकमेकांस किती तासांनी व किती वाजता भेटतील ?
- (1) 3 तासांनी व 11 वाजता (2) 3 तासांनी व 12 वाजता  
(3) 4 तासांनी व 12 वाजता (4) 4 तासांनी व 01 वाजता
- From Mumbai to Pune there are two buses. Out of these the first bus starts at 8 o'clock at 80 km per hour and on the same day the second bus starts at 9 o'clock at 100 km per hour. Then these two buses meet after how many hours and at what time?
- (1) 3 hours later at 11 o'clock  
(2) 3 hours later at 12 o'clock  
(3) 4 hours later at 12 o'clock  
(4) 4 hours later at 01 o'clock

89. अमितने आपल्या पगाराचा 3/5 हिस्सा घरी दिला. उरलेल्या हिस्स्यापैकी निम्मा शेतीसाठी खर्च केला. उरलेल्या पैकी निम्मा

मुलाला दिला व बाकीची रक्कम पोस्टात जमा केली. जर त्याने पोस्टात ₹ 600 जमा केले, तर त्याचा पगार किती ?

- (1) ₹ 6,000 (2) ₹ 6,500  
(3) ₹ 5,000 (4) ₹ 4,000

- Amit gave 3/5 part of his salary for home. From the remaining part, half was spent for farming. From remaining portion, half was given to his son and the remaining amount was deposited in the post-office. If he deposited ₹ 600 in the post-office, then what will his salary be?

- (1) ₹ 6,000 (2) ₹ 6,500  
(3) ₹ 5,000 (4) ₹ 4,000

90. जर  $3 \times 2 = -26$ ,  $6 \times 4 = -40$  आणि  $5 \times 7 = -22$  असेल तर  $4 \times 2 = ?$

- (1) -34 (2) -43 (3) -36 (4) -42

- If  $3 \times 2 = -26$ ,  $6 \times 4 = -40$  and  $5 \times 7 = -22$ , then  $4 \times 2 = ?$

- (1) -34 (2) -43 (3) -36 (4) -42

91. A शहरात 52000 लोकांपैकी 0.30% व्यक्तींकडे मोटार कार आहे. B शहरात 48000 लोकांपैकी 0.25% व्यक्तींकडे मोटार कार आहे. C शहरात 50000 लोकांपैकी 300 व्यक्तींकडे मोटार कार आहेत. तर खालील कोणत्या सांकेतिक चिन्हांने यांचे संबंध दर्शविता येईल ?

- (1)  $A > B > C$  (2)  $B < A < C$   
(3)  $C < A < B$  (4)  $B < C < A$

- In city A, out of the 52000 persons 0.30% have motor vehicles. In city B, out of 48000 persons 0-25% have motor vehicles. In city C out of 50000 persons 300 have motor vehicles. Which of the following symbols correctly represents their relationship?

- (1)  $A > B > C$  (2)  $B < A < C$   
(3)  $C < A < B$  (4)  $B < C < A$

92. एका घन आकृतीला दोन सलग बाजूने लाल रंग, लाल रंगाच्या विरुद्ध बाजूने नारंगी रंग आणि उरलेल्या बाजूंना निळा रंग देण्यात आला. त्याचे 27 तुकडे करण्यात आले. तर संपूर्ण क्षेत्रफळाचा किती भाग रंगविण्यात आलेला नाही ?

- (1) 1/3 (2) 1/4 (3) 1/2 (4) 1/6

- A solid cube is painted red on two adjacent sides, orange on the sides opposite to red surfaces and blue in the remaining two sides. It is cut into 27 smaller cubes of equal size. What fraction of the total surface area of the 27 cubes is not painted ?

- (1) 1/3 (2) 1/4 (3) 1/2 (4) 1/6

93. खालील विधाने तपासून पाहा :

- (अ) एक तर रमेश व किरण एकाच वयाचे आहेत किंवा रमेश किरणपेक्षा वयाने मोठा आहे.  
(ब) एक तर सौरभ व संग्राम एकाच वयाचे आहेत किंवा संग्राम सौरभपेक्षा वयाने मोठा आहे.  
(क) सौरभपेक्षा किरण वयाने मोठा आहे.

वरील विधानातून खालीलपैकी कोणता निष्कर्ष काढता येतो ?

- (1) किरणपेक्षा रमेश वयाने मोठा आहे.
- (2) किरण व संग्राम एकाच वयाचे आहेत.
- (3) सौरभपेक्षा संग्राम वयाने मोठा आहे.
- (4) सौरभपेक्षा रमेश वयाने मोठा आहे.

► Check the following statements :

- (a) Ramesh and Kiran are of the same age or Ramesh is older than Kiran.
- (b) Sourabh and Sangram are of the same age or Sangram is older than Sourabh.
- (c) Kiran is older than Sourabh.

Which conclusion can be drawn from the above statements ?

- (1) Ramesh is older than Kiran.
- (2) Kiran and Sangram are of same age.
- (3) Sangram is older than Sourabh.
- (4) Ramesh is older than Sourabh.

94. शर्वरीचा जन्म बुधवार दिनांक 5 सप्टेंबर 2001 ला झाला. तिचा तिसरा वाढदिवस कोणत्या दिवशी येईल ?

- (1) रविवार
- (2) गुरुवार
- (3) मंगळवार
- (4) सोमवार

► Sharvari was born on Wednesday, the 5th of September 2001. On which day will her third birthday be?

- (1) Sunday
- (2) Thursday
- (3) Tuesday
- (4) Monday

95. राम घरापासून 15 किमी दक्षिणेकडे गेला व पूर्वेकडे वळून 10 किमी गेला. नंतर उत्तरेकडे वळून 5 किमी अंतर चालत गेला व पुन्हा पश्चिमेला 10 किमी चालत जावून थांबला. तर राम घरापासून कोणत्या दिशेला व किती अंतरावर आहे ?

- (1) उत्तरेला 15 किमी
- (2) उत्तरेला 10 किमी
- (3) दक्षिणेला 10 किमी
- (4) दक्षिणेला 15 किमी

► Ram went 15 km to the South from his house and then he turned to the East and walked 10 km. Afterwards turning to the North, he walked 5 km and again turned to the West and walked 10 km and stopped. Then at how much distance and in what direction is Ram now from his house?

- (1) 15 km to the North
- (2) 10 km to the North
- (3) 10 km to the South
- (4) 15 km to the South

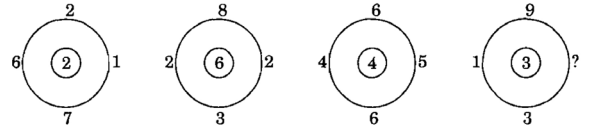
96. शाळेतील 288 मुलांना रांगेत उभे राहण्यास सांगितले. प्रत्येक रांगेत जेवढी मुले आहेत त्याच्या निमपट रांगांची संख्या आहे. तर प्रत्येक रांगेत किती मुले आहेत ?

- (1) 12
- (2) 16
- (3) 20
- (4) 24

► In the school, 288 students were told to stand in rows. The number of rows are half the number of students in each row. Then how many students are present in each row?

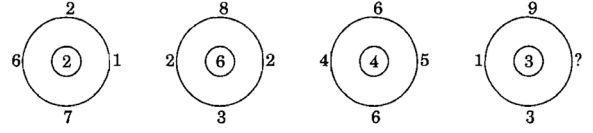
- (1) 12
- (2) 16
- (3) 20
- (4) 24

97. प्रश्नार्थक चिन्हाच्या ठिकाणी कोणता आकडा येईल ?



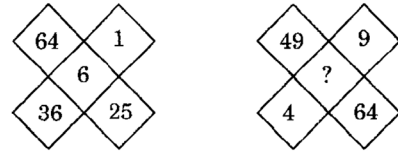
- (1) 1
- (2) 24
- (3) 8
- (4) 48

► Which number will come in place of the question mark ?



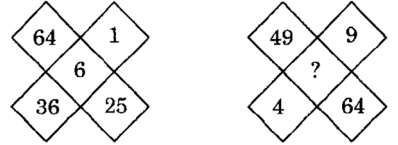
- (1) 1
- (2) 24
- (3) 8
- (4) 48

98. प्रश्नचिन्हाच्या जागी योग्य अंक लिहा.



- (1) 5
- (2) 7
- (3) 9
- (4) 10

► Write appropriate number in place of the question mark.



- (1) 5
- (2) 7
- (3) 9
- (4) 10

99. A, B, C, D, E, F हे सहा मित्र समोरासमोर बसून एका वर्तुळाकृती मैदानात खेळी आहेत. E हा D च्या डाव्या बाजूस आहे. C हा A आणि B च्या मध्ये आहे. F हा E आणि A च्या मध्ये आहे. तर B च्या डाव्या बाजूला कोण आहे ?

- (1) A
- (2) D
- (3) C
- (4) E

► Six friends namely A, B, C, D, E, F are sitting in front of each other in a circle and are playing. E is on the left side of D C is between A and (b) F is between E and A. Then who is on the left side of B?

- (1) A
- (2) D
- (3) C
- (4) E

100. जर EXCEL = 93596 असेल, PAINT = 74128 असेल, तर ACCEPT = ?

- (1) 735961
- (2) 455978
- (3) 547978
- (4) 554978

► If EXCEL = 93596 and PAINT = 74128, then ACCEPT = ?

- (1) 735961
- (2) 455978
- (3) 547978
- (4) 554978



## PSI - पूर्व परीक्षा 2014 उत्तरे

Ans	1	2	3	4	5	6	7	8	9	10
1	3	4	3	3	3	3	2	4	2	2
11	3	4	1	2	4	3	4	4	4	4
21	2	1	1	4	1	2	2	2	3	3
31	2	1	4	4	4	2	3	2	2	2
41	2	3	4	4	2	2	4	3	4	#
51	1	1	3	2	2	1	3	4	3	4
61	#	1	3	4	3	2	2	3	4	1
71	2	3	2	2	1	1	4	2	2	4
81	1	4	2	1	2	2	1	4	1	1
91	2	#	4	1	3	4	3	4	2	2

# ने दर्शविलेल्या प्रश्न रद्द करण्यात आलेले आहेत.